


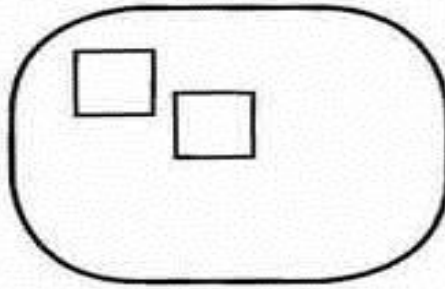
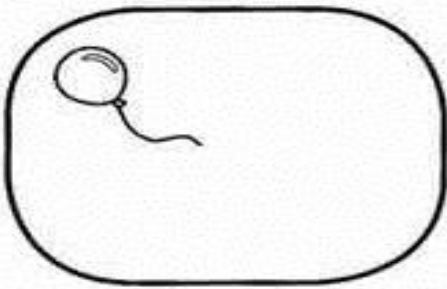

 DANILO GANHOU 4 BOLINHAS DE GUDE PARA A COLEÇÃO DELE. PINTE O SAQUINHO QUE CONTÉM 4 BOLINHAS DE GUDE.



 COMPLETE OS CONJUNTOS PARA QUE TODOS FIQUEM COM 4 ELEMENTOS.



 DE ACORDO COM OS NUMERAIS DE CADA FICHA, DESENHE A QUANTIDADE DE ELEMENTOS DE CADA CONJUNTO.



NOME: _____

DATA: **11/05/2021**

JARDIM II - Prof.ª _____